




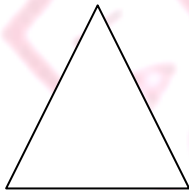

CAHIER D'ITEMS D'EVALUATION HEBDOMADAIRE

PERIODE DU 19 AU 25 juin 2020
CLASSE : 1^{ème} primaire
NOM :
POST-NOM :
DATE DE REMISE: vendredi, 26/06/2020

MATHEMATIQUE


1) J'observe attentivement chaque figure géométrique, puis :

- J'entoure le carré
- J'hachure le rectangle
- Je barre le cercle
- Je colorie le triangle.



2) Parmi les objets ci-après :

a. J'entoure le plus long et je barre le plus court.



b. Je colorie l'objet qui est lourd puis je barre ce qui est léger



FRANÇAIS

Je lis correctement ce qui suit

- 1) La na-tu-re
- 2) Nes-tor
- 3) Ro-bert
- 4) Le nu-mé-ro
- 5) Vé-ro
- 6) Nu-mé-ro
- 7) Le père de René a une cane
- 8) La mère de Irène est malade
- 9) René a un (1) camarade
- 10) Remi répare le vélo

Expression – Ecrit

J'écris le nom de chaque croquis :

