



**CAHIER D'ITEMS D'ÉVALUATION HEBDOMADAIRE**

**PERIODE DU** 15 AU 21 Mai 2020  
**CLASSE** : 2<sup>ème</sup> Primaire A, B  
**NOM** : .....  
**POST-NOM** : .....  
**DATE DE REMISE** : Vendredi, 22/05/2020

**I. MATHEMATIQUE**

1) J'écris les nombres de 0 à 10 en toutes lettres

0 =

6 =

1 =

7 =

2 =

8 =

3 =

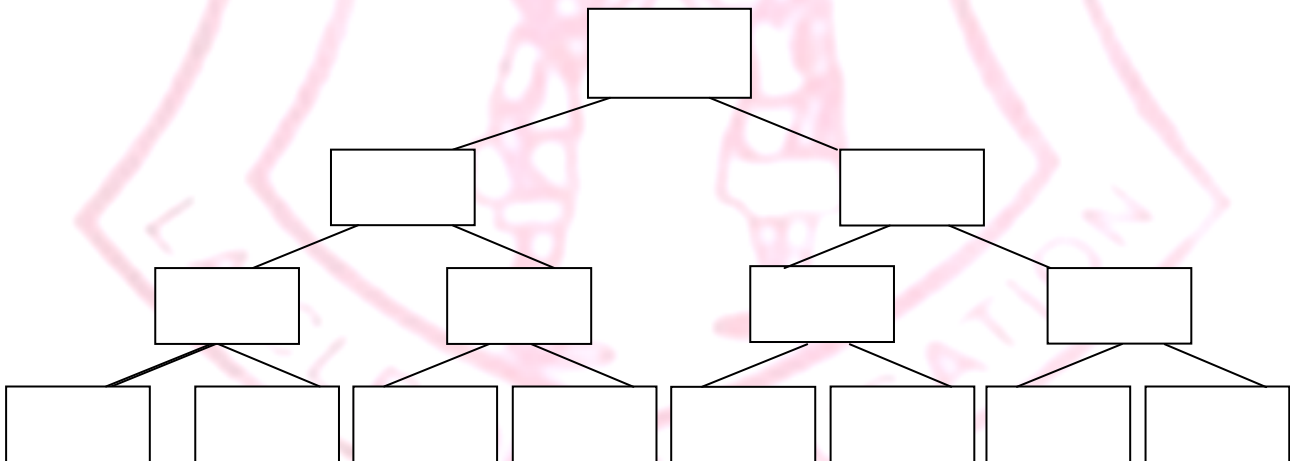
9 =

4 =

10 =

5 =

2) Je décompose le nombre 24 en respectant ce schéma.



3) Je trouve le :

$\frac{1}{2}$  de 16 =

$\frac{1}{4}$  de 24 =

$\frac{1}{3}$  de 27 =

$\frac{1}{5}$  de 25 =

$$\frac{1}{2} \text{ de } 20 =$$

## II. FRANÇAIS

---

1) Je conjugue le verbe ETRE au temps présent à la forme affirmative.

- .....
- .....
- .....
- .....
- .....
- .....

2) Je conjugue aussi le verbe AVOIR au temps présent à la forme affirmative.

- .....
- .....
- .....
- .....
- .....
- .....

3) Je complète les ..... par les présentatifs ci-après :

- Il y a, Voici, Voilà, C'est, ce sont.

1.



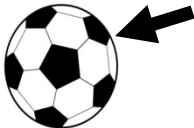
= ..... la chaise

2.



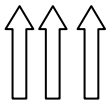
= ..... la tomate

3.



= ..... le ballon

4.



= ..... les crayons



= ..... la fleur




= ..... du jus

4) J'écris le nom de chaque croquis :

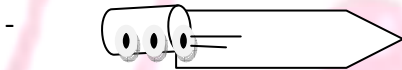


= .....




=

.....



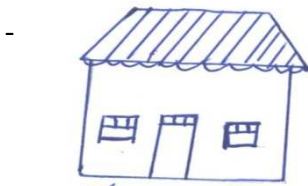
=

.....



=

.....



=

.....

5) J'écris 2 noms communs

- .....

- .....

6) Et 3 noms propres

- .....
- .....

### III. CULTURE

---

1) Je situe Savana dans l'espace en entourant la commune dans laquelle il se trouve.

- a. Commune Beu
- b. Commune Bungulu
- c. Commune Ruwenzori
- d. Commune Mulekera
- e. Aucune réponse

2) Je cite et écris les noms des animaux

a. Domestiques

- .....
- .....

b. Sauvages

- .....
- .....

c. Aquatiques

- .....
- .....

